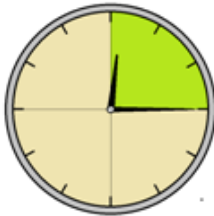


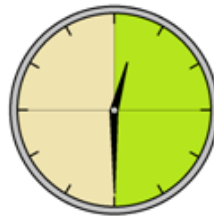


Aufgabe 1

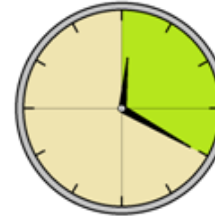
a) Ermittle den jeweiligen Bruchteil einer Stunde. Verwandle in Minuten. Welche Uhrzeit wird angezeigt?



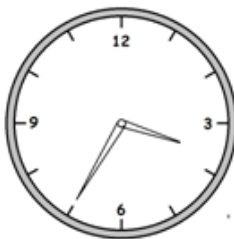
— h = min







b) Wie spät ist es? Notiere unter jede Uhr die passende Zeit am Vormittag und am Nachmittag.



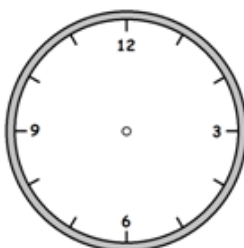




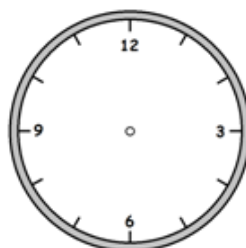


c) Zeichne die angegebenen Uhrzeiten ein.

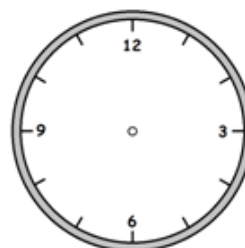
2 : 45 Uhr



17 : 08 Uhr



11 : 20 Uhr



19:34 Uhr

