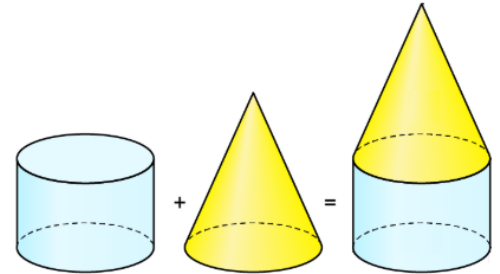




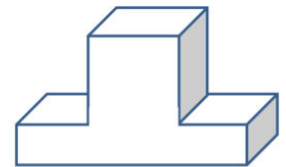
**Aufgabe 1**

Aus welchen Körpern bestehe ich?

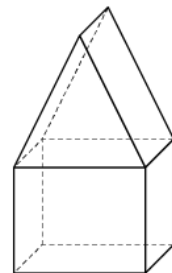
- a) Kegel (1x),  
Zylinder (1x)



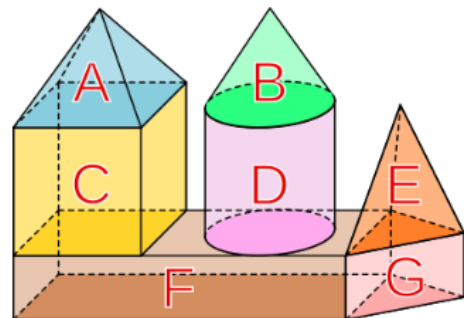
- b) Würfel (1x),  
Quader (1x)



- c) Dreiecksprisma (1x),  
Quader (1x)



- d) quadratische Pyramide (1x),  
Würfel (1x), Quader (1x),  
Zylinder (1x), Kegel (1x),  
Dreieckspyramide (1x),  
Dreiecksprisma (1x)



- e) quadratische Pyramide (2x),  
Quader (2x),  
Dreiecksprisma (1x),  
Quader mit einem Ausschnitt  
von einem halbierten Zylinder (1x)

