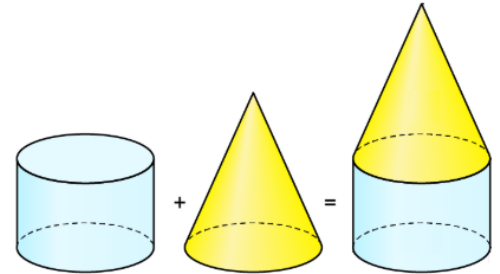


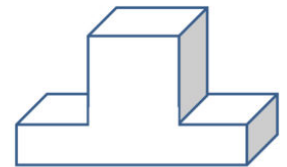
### Aufgabe 1

Aus welchen Körpern bestehe ich?

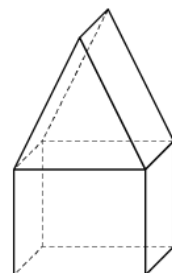
a) es besteht aus  
 ein Zylinder und  
 ein Kegel



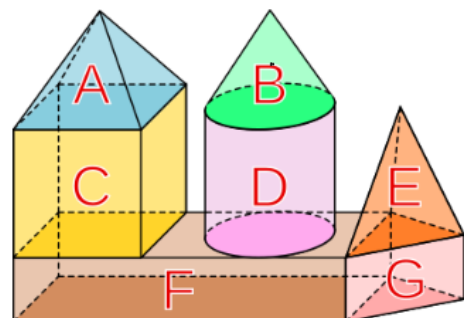
b) es besteht aus  
 einer Würfel  
 und einem Rechteck



c) es besteht  
 aus einem Prisma  
 und einem Würfel



d) es besteht aus einer  
 Pyramide, Würfel,  
 rechteck, Zylinder,  
 Kegel, Prisma, Prisma



e) es besteht aus  
 2 Pyramiden, Rechteck,  
 Prisma

