

Aufgabe 1: Welche der dargestellten Bilder sind symmetrisch? Begründe deine Entscheidung, falls eine Figur nicht symmetrisch ist.



Begründung: Ja es ist
symmetrisch.



Begründung: Ja es ist
symmetrisch



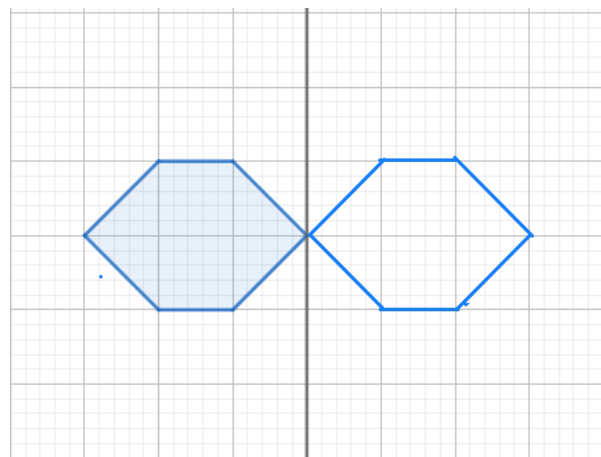
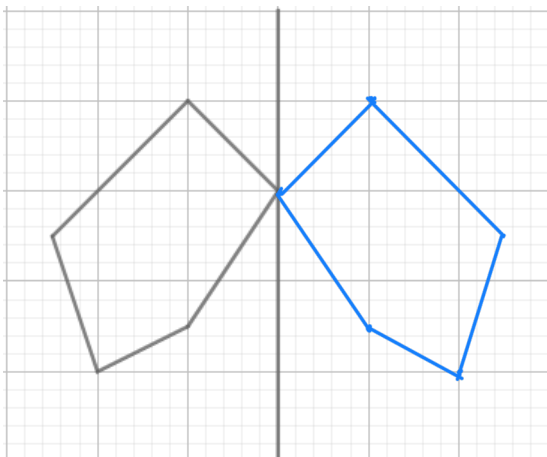
Begründung: Nein es ist nicht
symmetrisch

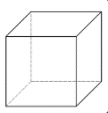


Begründung: Nein es ist nicht
symmetrisch



Aufgabe 2: Spiegle die Figuren entlang der Spiegelachse





Aufgabe 3: Spiegele die Figuren entlang der Spiegelachse

