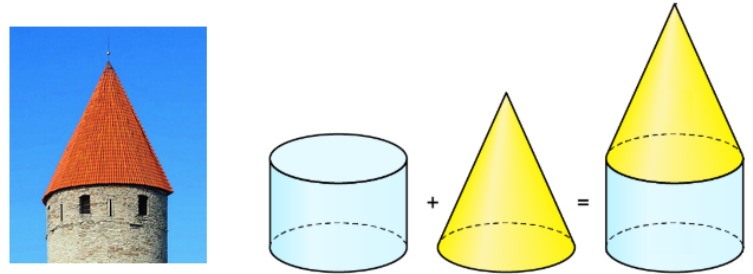





Aufgabe 1

Aus welchen Körpern bestehe ich?

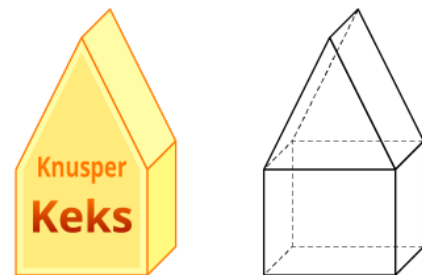
a) Aus einem Kegel
und einem Zylinder



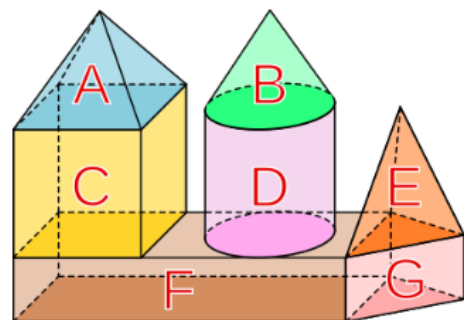
b) Aus einem Würfel
und einem Quader



c) Aus einem Würfel und
einer Dreiecksprisma



d) A: Pyramide
B: Kegel
C: Würfel
D: Zylinder
E: Pyramide
F: Quader
G: Dreieckspyramide



e) Aus zwei Pyramiden
einem Dreiecksprisma
und zwei Quader
und einem Zylinder

