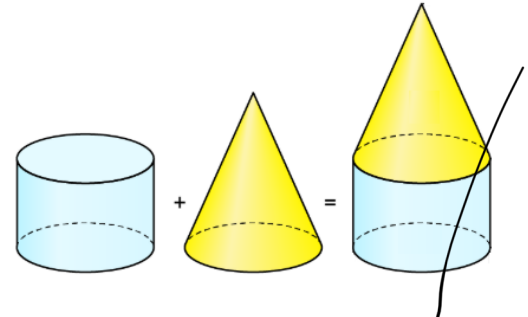


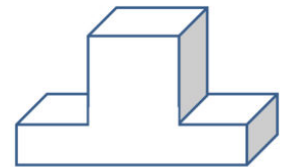
Aufgabe 1

Aus welchen Körpern bestehe ich?

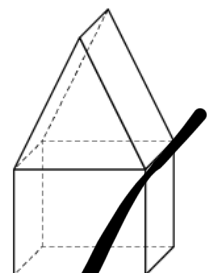
a) Ich bestehe aus einem Zylinder
und ein Kegel



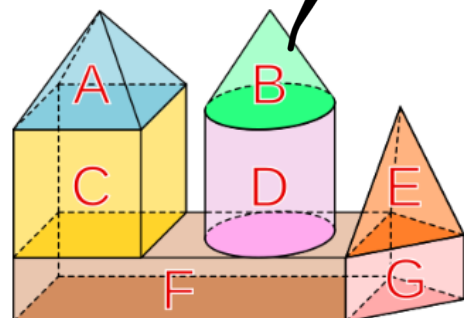
b) Es besteht aus einen
Quader und einen
Würfel



c) Es besteht aus Würfel
und Prisma



d) A:Pyramide,B:Kegel,C:Würfel,
D:Zylinder, F:Quader,
E:dreiecks Pyramide, G:Prisma



e) Es gibt Zwei Quader.Es
gibt Zwei Pyramiden.Es
gibt ein Prisma.Und es
gibt ein halb Kreis

