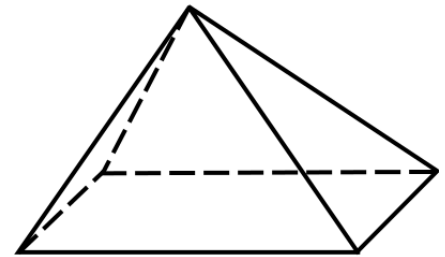
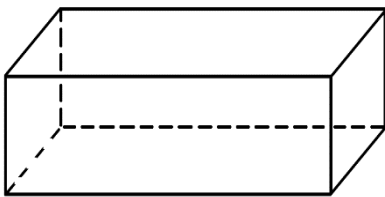




**Aufgabe 1**

Schauen dir die abgebildeten Körper genau an.

a) Wie viele Ecken, Kanten und Flächen haben sie? Du kannst die Schrägbilder zur Hilfe nehmen.

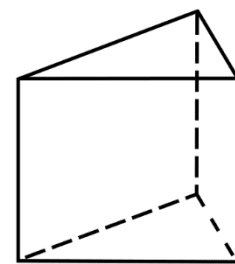
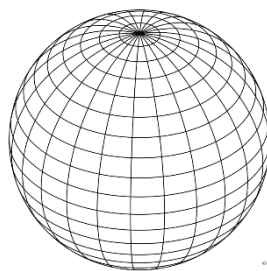
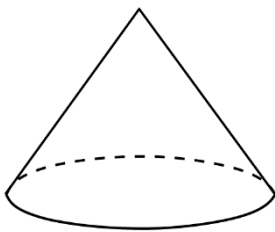


Quader	
Ecken	8
Kanten	12
Flächen	6

Zylinder	
Ecken	0
Kanten	2
Flächen	3

Pyramide	
Ecken	5
Kanten	8
Flächen	5

b) Welcher Körper passt zu den gegebenen Informationen?



Kegel

Kugel

Dreiecksprisma

Ecken	0
Kanten	0
Flächen	1

Ecken	1
Kanten	1
Flächen	2

Ecken	6
Kanten	9
Flächen	5

