

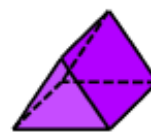
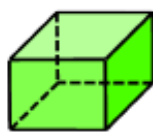
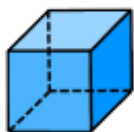


### Aufgabe 1

Fülle die nachfolgende Tabelle aus. (mit Apple Pen).

- oder -

Zeichne die Tabelle auf ein kariertes Blatt ab und fülle die Tabelle aus.



(1)

(2)

(3)

(4)

(5)

(6)

Körper	(1)	(2)	(3)	(4)	(5)	(6)
Anzahl der Begrenzungsflächen	6	6	3	5	5	2
Anzahl der Ecken	8	8	0	4	6	0
Anzahl der Spitzen	0	0	0	1	0	1
Anzahl der Kanten	12	12	2	8	9	1