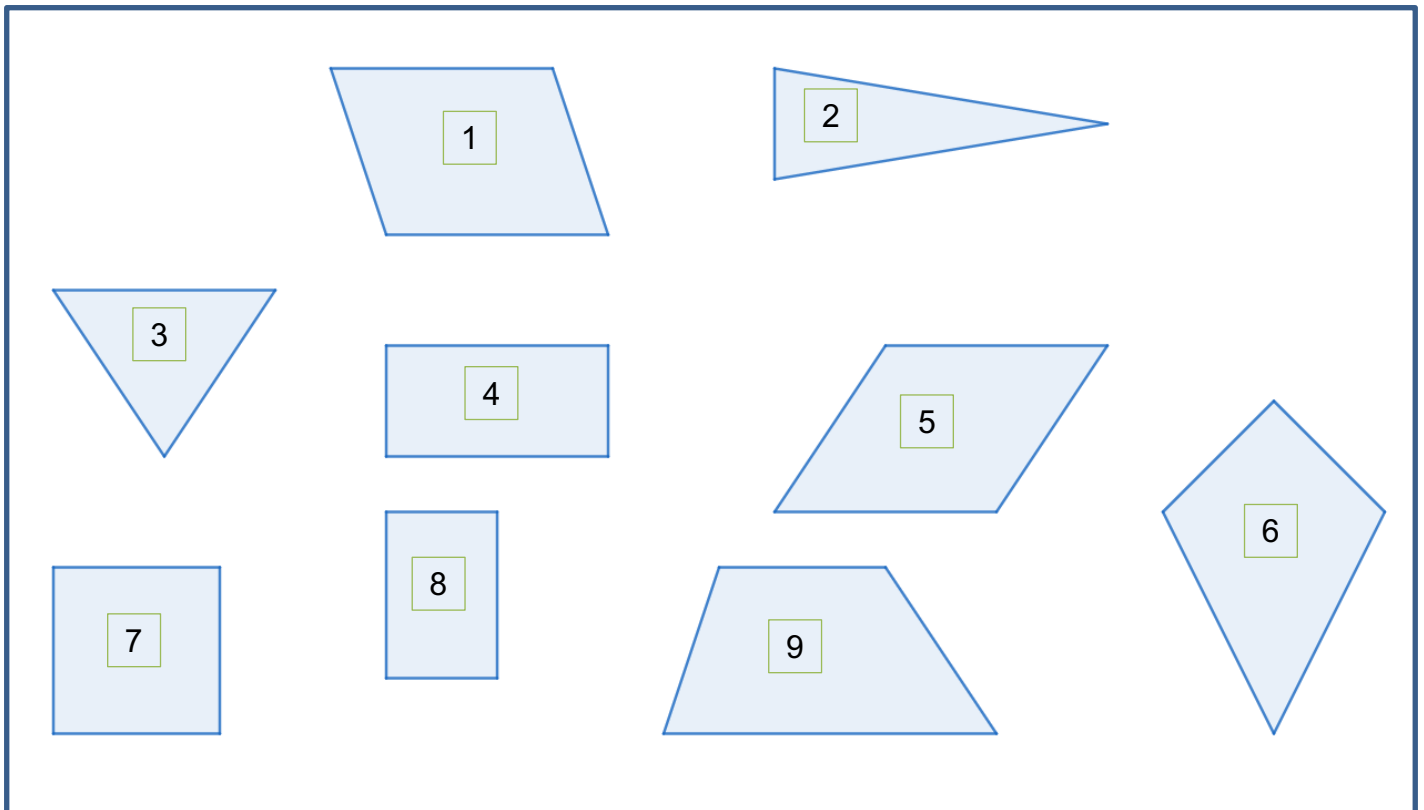




Aufgabe 1

- a) Welche geometrischen Figuren kannst du in diesem Bild erkennen?
Beschrifte die Figuren mit der passenden Bezeichnung.



- b) Zeichne selbst folgende Figuren: Trapez, Parallelogramm, Dreieck, Quadrat, Rechteck, Drachenviereck.

AB1: Ebene Figuren - Geometrische Figuren

Mathematik MSU

Aufgabe 1

a) ① Parallelogramm

③ Dreieck

⑤ Parallelogramm

⑦ Quadrat

⑨ Rechteck


② Dreieck

④ Rechteck

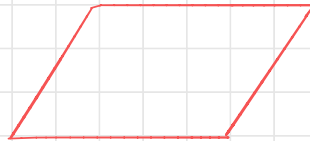
⑥ Drache

⑧ Trapez

b)



Trapez



Parallelogramm



Dreieck



Quadrat



Rechteck



Drachenviereck