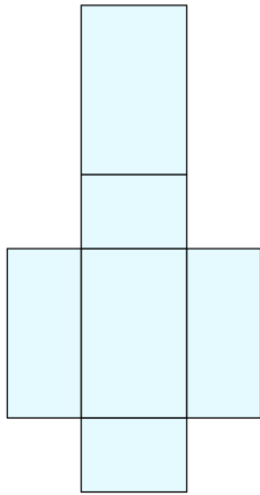


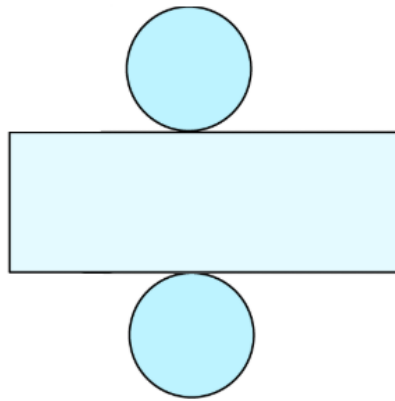


**Aufgabe 1**

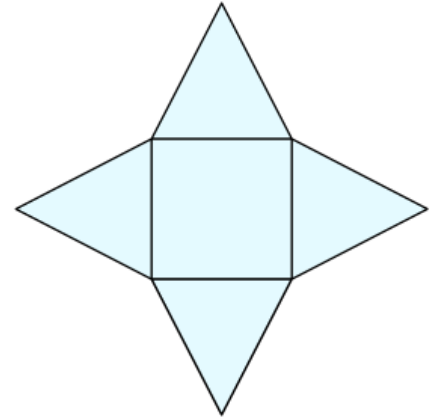
a) Welcher Körper steckt hinter dem Körpernetz?



1) Quadrat



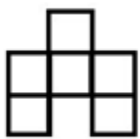
2) Zylinder



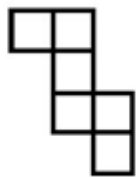
3) Pyramide

b) Felix hat versucht, ein paar Würfelnetze zu zeichnen. Überlege, ob man aus jedem seiner Würfelnetze einen Würfel bauen kann oder ob er irgendwo einen Fehler gemacht hat.

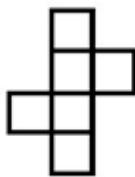
a)



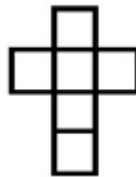
b)



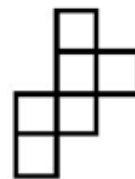
c)



d)



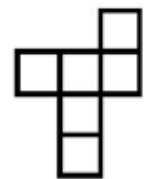
e)



f)



g)



c) Zeichne ein Körpernetz eines Quaders! Achte darauf, dass alle Seiten gleich lang sind!

