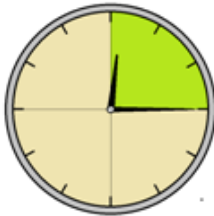


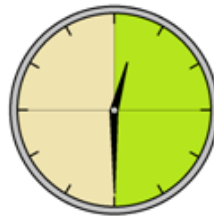

Aufgabe 1

- a) Ermittle den jeweiligen Bruchteil einer Stunde. Verwandle in Minuten. Welche Uhrzeit wird angezeigt?



$$\frac{1}{4} \text{ h} = 15 \text{ min}$$

12:15



$$\frac{1}{2} \text{ h} = 30 \text{ min}$$

12:30



$$\frac{3}{4} \text{ h} = 45 \text{ min}$$

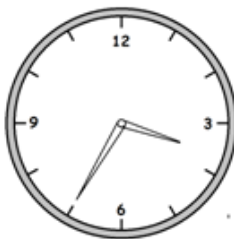
12:45



$$\frac{1}{3} \text{ h} = 20 \text{ min}$$

12:20

- b) Wie spät ist es? Notiere unter jede Uhr die passende Zeit am Vormittag und am Nachmittag.



15:35

3:35



22:10

10:10



20:50

8:50



17:25

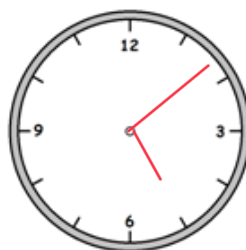
5:25

- c) Zeichne die angegebenen Uhrzeiten ein.

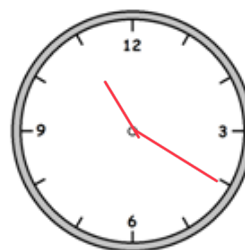
2 : 45 Uhr



17 : 08 Uhr



11 : 20 Uhr



19:34 Uhr

