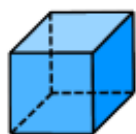


**Aufgabe 1**

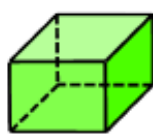
Fülle die nachfolgende Tabelle aus. (mit Apple Pen).

- oder -

Zeichne die Tabelle auf ein kariertes Blatt ab und fülle die Tabelle aus.



(1)



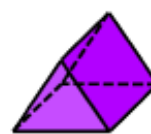
(2)



(3)



(4)



(5)



(6)

Körper	(1)	(2)	(3)	(4)	(5)	(6)
Anzahl der Begrenzungsflächen	6	6	3	5	5	2
Anzahl der Ecken	8	8	—	5	6	—
Anzahl der Spitzen	—	—	—	1	—	1
Anzahl der Kanten	12	12	2	8	9	1