

Aufgabe 1: Welche der dargestellten Bilder sind symmetrisch? Begründe deine Entscheidung, falls eine Figur nicht symmetrisch ist.



Begründung: Man kann das spiegeln.

Es ist symmetrisch.



Begründung: Man kann das spiegeln.

Es ist symmetrisch.



Begründung: Man kann das nicht spiegeln.

Es ist nicht symmetrisch.

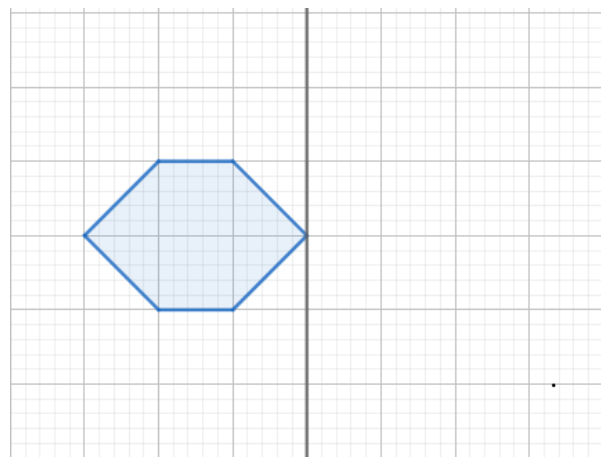
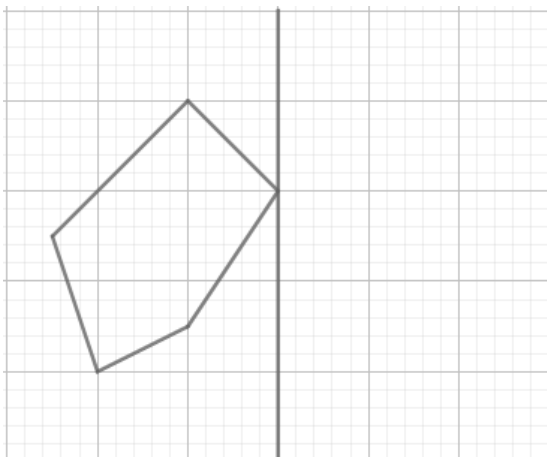


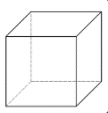
Begründung: Man kann das nicht spiegeln.

Es ist nicht symmetrisch.



Aufgabe 2: Spiegle die Figuren entlang der Spiegelachse





Aufgabe 3: Spiegele die Figuren entlang der Spiegelachse

