









- 1 Gib die Einzelwahrscheinlichkeiten in einem Baumdiagramm an. ● ○ ○ 
- 2 Ergänze das Baumdiagramm mit den passenden Einzelwahrscheinlichkeiten. ● ○ ○ 
- 3 Erläutere, wie du die Einzelwahrscheinlichkeiten an den markierten Stellen eines Baumdiagramms bestimmst. ● ○ ○ 
- 4 Entscheide, welche Wahrscheinlichkeiten im „Mensch-ärgere-dich-nicht“-Spiel stimmen. ● ○ ○ 
- 5  Ermittle die Fehler im Baumdiagramm. ● ● ● 

Der erste Fehler befindet sich an der Position. Eigentlich hätte dort stehen müssen.

Den zweiten Fehler findest du an der Position. Richtigerweise steht dort .

Den nächsten Fehler entdecken wir an Position. Stattdessen schreiben wir .

8. 
12. 
W T F

Den letzten Fehler korrigieren wir an Position. Dort notieren wir .