





Aufgabe 1

Welche der dargestellten Bilder sind symmetrisch? Begründe deine Entscheidung, falls eine Figur nicht symmetrisch ist.


Begründung: Ist symmetrisch



Begründung: Ist symmetrisch



Begründung: Ist symmetrisch



Begründung: Ist symmetrisch

