



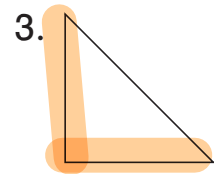
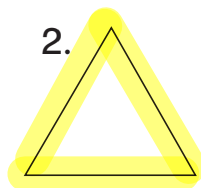
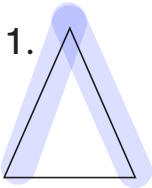
Es gibt verschiedene Arten von Dreiecken.

Bei einem **gleichseitigen Dreieck** sind **alle Seiten gleich lang**.

Ein **Winkeldreieck** besitzt einen **rechten Winkel**.

Ein **gleichschenkliges Dreieck** hat **zwei gleich lange Seiten**.

1 a) Trage die Dreiecksarten ein.



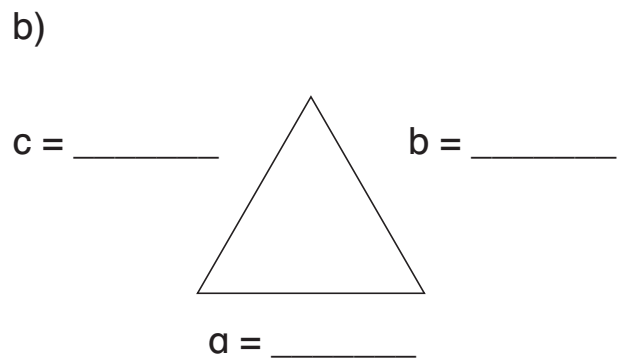
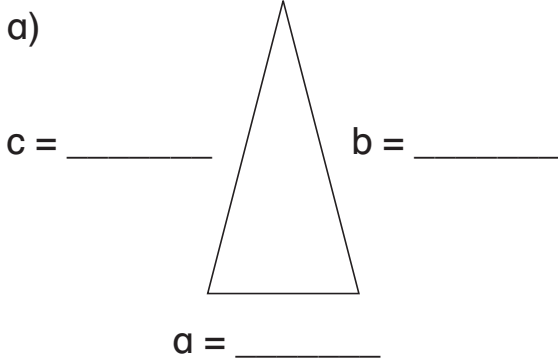
b) Vervollständige!



Alle Dreiecke haben zwei Dinge gemeinsam:

Sie besitzen Seiten und Eckpunkte.

2 Miss die Seiten der Dreiecke. Gib die Längen in cm an.



3 Verena weiß, wie man aus einem Rechteck 2 gleich große Dreiecke machen kann:

Schneide das Rechteck aus.
Falte es in 2 gleich große Dreiecke.
Schneide entlang der Falllinie.
Klebe ein Dreieck hier auf.

