
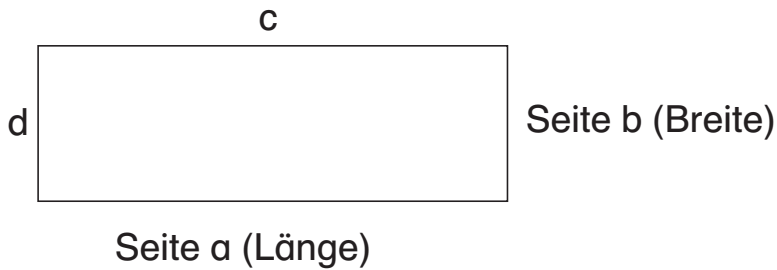




1 Betrachte das Viereck!



a) Wie viele Seiten hat das Viereck? _____ Seiten

b) Wie lang sind die einzelnen Seiten?  Du brauchst ein Lineal!


a = _____ b = _____ c = _____ d = _____

c) Was fällt dir bei den Seitenlängen auf? _____

d) Was fällt dir bei den Ecken auf? _____

e) Dieses Viereck nennt man auch ... _____

2 Warum ist die folgende Fläche zwar ein Viereck, aber kein Rechteck? Begründe!



3 Nenne 5 Gegenstände mit rechteckigen Flächen.

Schreibe die Anzahl der Flächen in Klammern dahinter.

Beispiel: Blatt (1) _____

