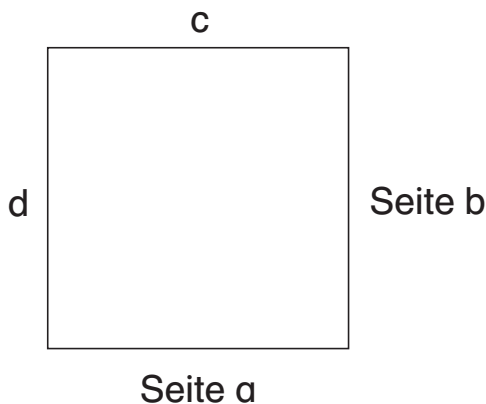




1

Betrachte das Quadrat!



a) Wie viele Seiten hat das Quadrat? \_\_\_\_\_ Seiten

b) Wie lang sind die einzelnen Seiten?

a = \_\_\_\_\_ b = \_\_\_\_\_ c = \_\_\_\_\_ d = \_\_\_\_\_


c) Was fällt dir bei den Seitenlängen auf?

\_\_\_\_\_


2

Male die quadratischen Flächen an.


a)



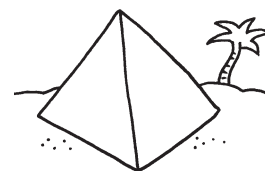
b)



c)



d)



3

Wie kannst du aus einem Rechteck ein Quadrat falten?

Tipp: Abschneiden ist erlaubt!

Wie oft musst du falten?

\_\_\_\_\_

