

8


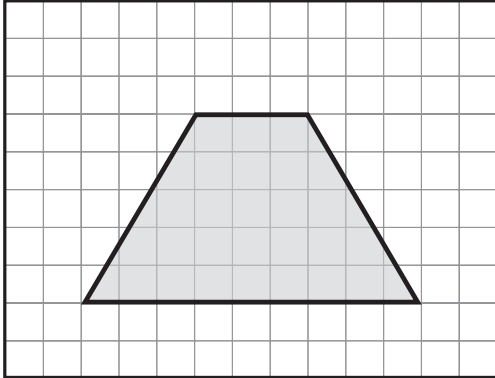
### Vierecke zeichnen



Achte auf die Anzahl der Kästchen.



Das abgebildete Viereck nennt man Trapez. Zeichne es genau nach.


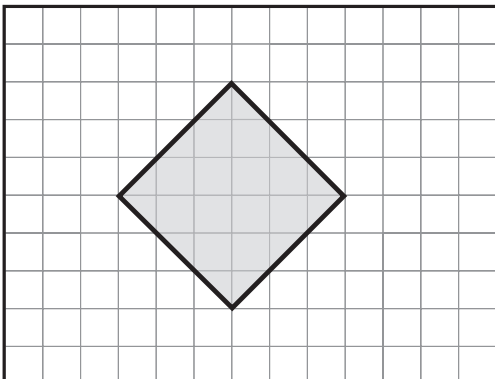


2

a) Wie lang sind die Seiten des Quadrates?  $a = \text{_____ cm}$

b) Zeichne ein gleich großes Quadrat in einer anderen Lage.

*Tip:*  
Diese Aufgabe ist einfacher auf Papier...



3

Zeichne mindestens 4 verschiedene Vierecke.

