


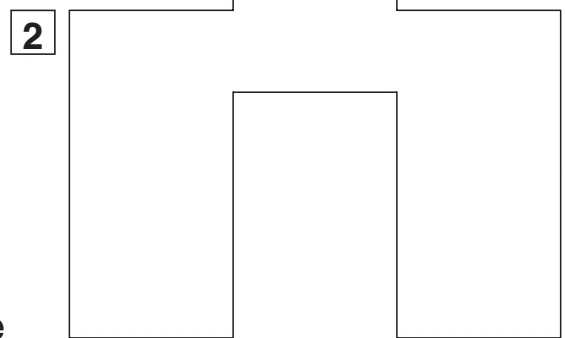



1

Male an: größte Fläche = blau kleinste Fläche = rot

Schneide die Legeplättchen unten aus.

Aus wie vielen Quadraten bestehen die Flächen 1–3?



4 Quadrate

___ Quadrate

___ Quadrate

→ Extra Blatt, kariert!

2

Zeichne 3 Flächen, die jeweils aus 16 kleinen Quadraten bestehen.

Was kannst du über den Flächeninhalt der Flächen sagen?



Beispiel:

