

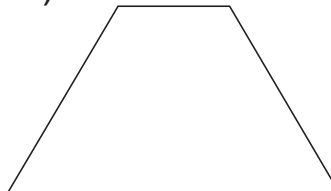


1 Zerlege mit einer Linie in 2 gleich große Flächen.


a)



b)



c)

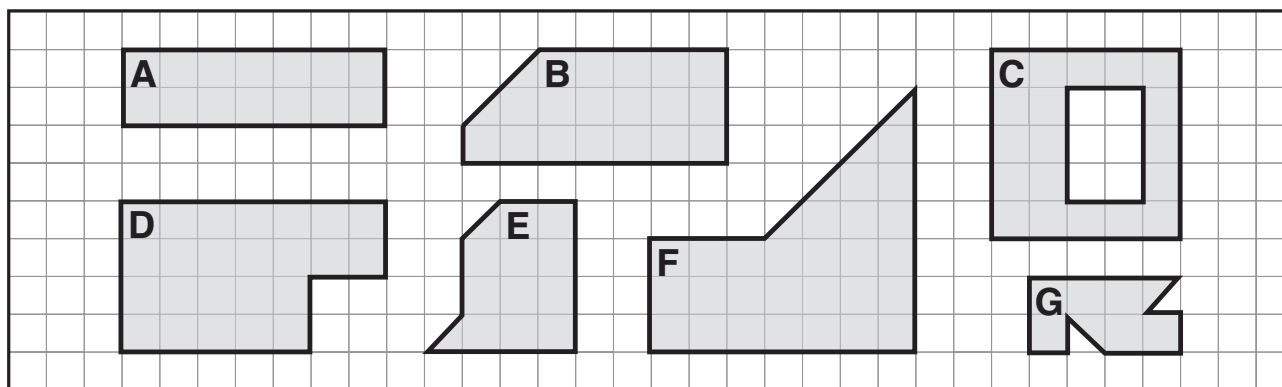


2 Du möchtest Parkett verlegen. Berechne die Kosten für die Flächen.

Fußboden

$\triangle = 50$

$\square = 200$



A: _____

B: _____

C: _____

D: _____

E: _____

F: _____

G: _____



3 Schneide die Quadrate aus. Falte ein Rechteck, ein Dreieck und ein Quadrat jeweils mit einem Flächeninhalt von 32 Quadraten.

Tipp: Um ein Quadrat zu erhalten, musst du viermal falten!

