


Fliesenleger Franz möchte sein Wohnzimmer mit neuen Fliesen auslegen.

Eine Fliese ist rechteckig, 50 cm breit und 50 cm lang.



- a) Welche Form haben die Fliesen? _____
- b) Das Wohnzimmer ist 5 m lang und 6 m breit.
Wie viele Fliesen muss Franz einkaufen? (Tipp: Fertige eine Zeichnung auf Karopapier an! Eine Fliese entspricht dabei einem Kästchen.)


Antwort: _____



Die abgebildeten Häuserwände sollen neu gestrichen werden. Für welche Hauswand wird die meiste (rot), für welche Hauswand die wenigste Farbe (blau) gebraucht.

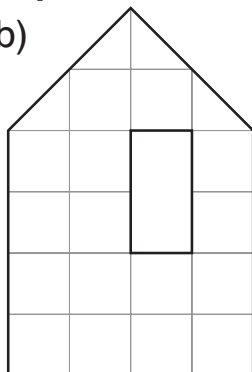
Male die Abbildungen entsprechend an.

a)




_____ Kästchen

b)



_____ Kästchen

c)



_____ Kästchen



Gustav behauptet: Alle 3 gefärbten Flächen sind gleich groß!

Stimmt das? ja nein

Begründe!

