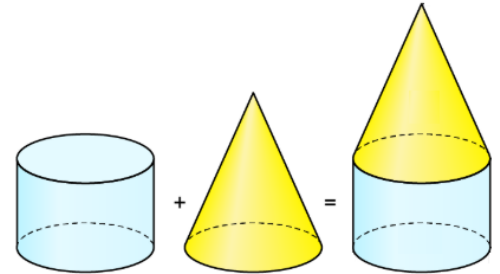




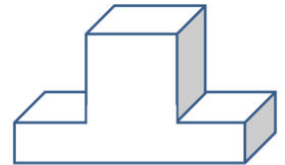
Aufgabe 1

Aus welchen Körpern bestehe ich?

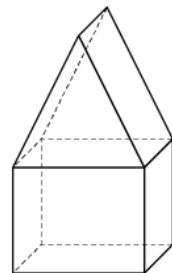
a) Aus Zylinder und Kegel



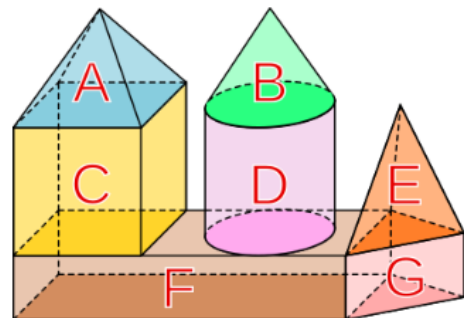
b) Aus einem Würfel und Quader



c) ein fünfseitiges Prisma und ein Würfel



d) A=Viereckspyramide, B=Kegel, C=Würfel, D=Zylinder, E=Dreieckspyramide, F=Quader, G=fünfseitiges Prisma



e) Viereckspyramide x2, fünfseitiges Prisma, Quader x2, Quader mit halbzylinder Ausschnitt

