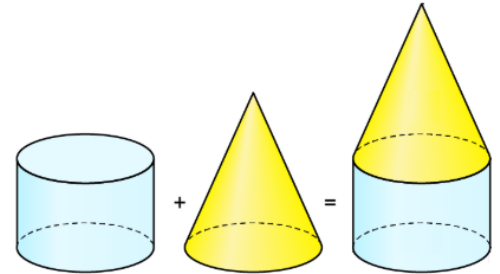




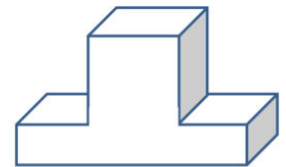
Aufgabe 1

Aus welchen Körpern bestehe ich?

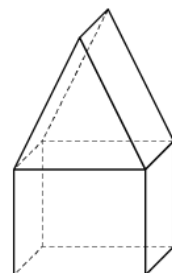
a) Aus einem Zylinder und aus einem Kegel



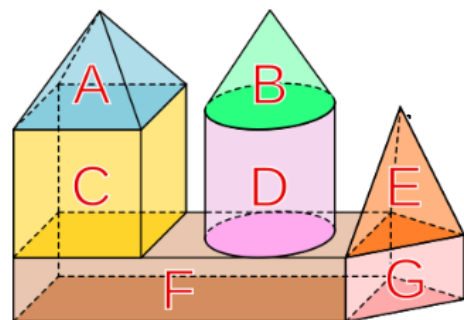
b) Würfel und Quader



c) Ein Prisma und ein Würfel



d) A: Vierecks pyramide B: Kegel
C: Würfel D: Zylinder
E: Dreiecks pyramide F: Quader
G: fünfseitiges Prisma



e) Vierecks pyramide x 2
fünfseitiges Prisma
Quader x 2
Quader mit halbzylinder ausschnitt

