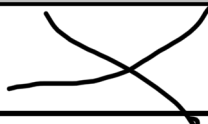






Aufgabe 1

Welche Eigenschaften haben die folgenden Vierecke immer gemeinsam?

Tipp: Schaue dir Bilder der einzelnen Vierecke an

Eigenschaften	Quadrat und Raute	Rechteck, Trapez und Parallelogramm
Benachbarte Seiten sind gleich lang.		
Die gegenüberliegenden Winkel sind gleich groß.		
Mindestens ein Paar gegenüberliegender Seiten ist parallel.		
Die Diagonalen halbieren einander.	