



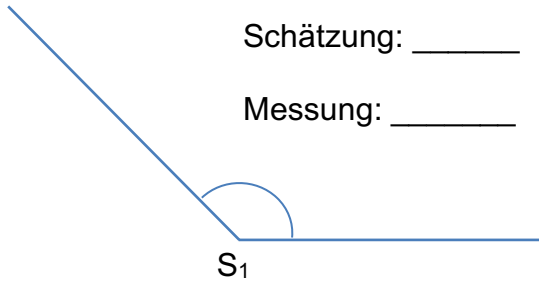
-Alle Winkel messen-



### Aufgabe 1

Schätze die folgenden Winkel und miss dann nach.

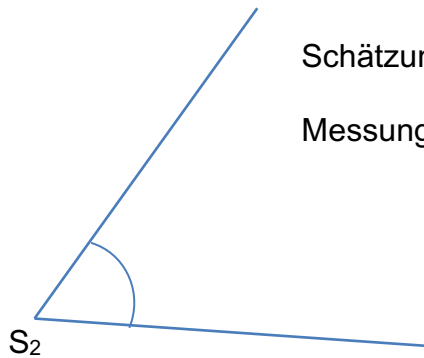
a)



Schätzung: \_\_\_\_\_

Messung: \_\_\_\_\_

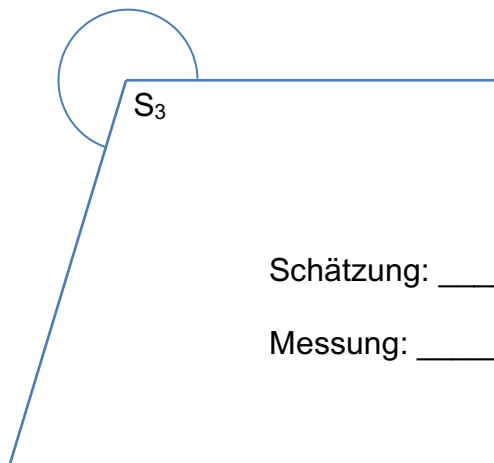
b)



Schätzung: \_\_\_\_\_

Messung: \_\_\_\_\_

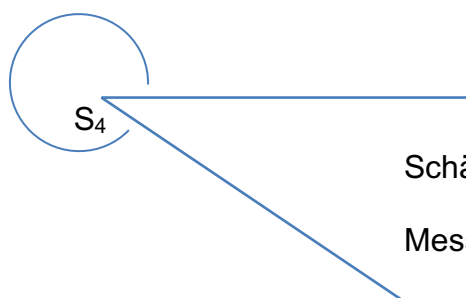
c)



Schätzung: \_\_\_\_\_

Messung: \_\_\_\_\_

d)



Schätzung: \_\_\_\_\_

Messung: \_\_\_\_\_