



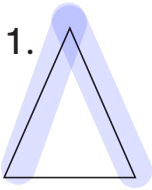
Es gibt verschiedene Arten von Dreiecken.

Bei einem **gleichseitigen Dreieck** sind alle Seiten gleich lang.

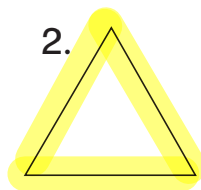
Ein **Winkeldreieck** besitzt einen rechten Winkel.

Ein **gleichschenkliges Dreieck** hat zwei gleich lange Seiten.

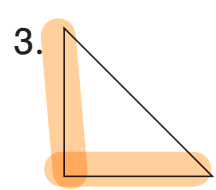
① a) Trage die Dreiecksarten ein.



gleichschenkliges
Dreieck



gleichseitiges
Dreieck



Winkeldreieck

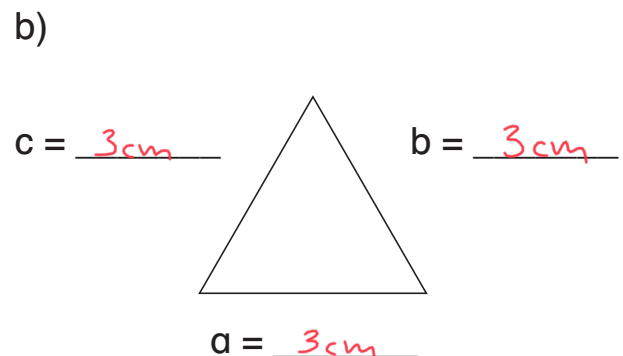
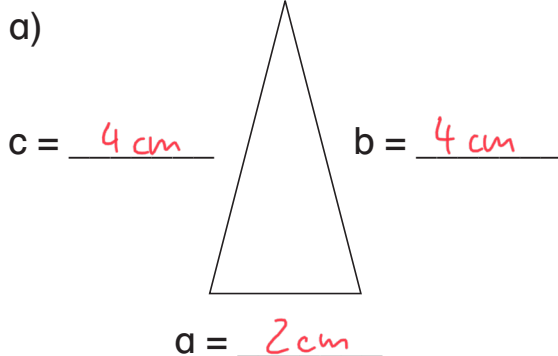
b) Vervollständige!



Alle Dreiecke haben zwei Dinge gemeinsam:

Sie besitzen Seiten und Eckpunkte.

② Miss die Seiten der Dreiecke. Gib die Längen in cm an.



③ Verena weiß, wie man aus einem Rechteck 2 gleich große Dreiecke machen kann:

Schneide das Rechteck aus.
Falte es in 2 gleich große Dreiecke.
Schneide entlang der Faltlinie.
Klebe ein Dreieck hier auf.

