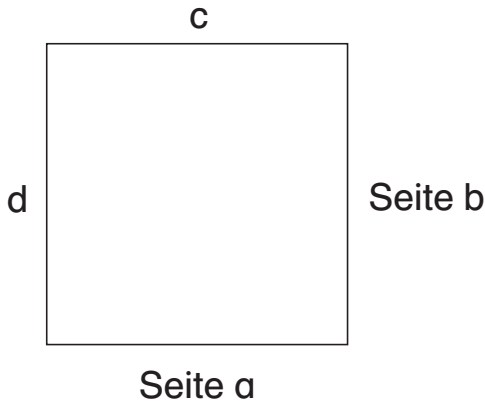




1 Betrachte das Quadrat!



a) Wie viele Seiten hat das Quadrat? 4 Seiten

b) Wie lang sind die einzelnen Seiten?


a = 4 cm    b = 4 cm    c = 4 cm    d = 4 cm

c) Was fällt dir bei den Seitenlängen auf?

Alle Seiten sind gleich lang.

2 Male die quadratischen Flächen an.

a)




b)



c)



d)



3 Wie kannst du aus einem Rechteck ein Quadrat falten?

Tipp: Abschneiden ist erlaubt!

Wie oft musst du falten?

2 x

