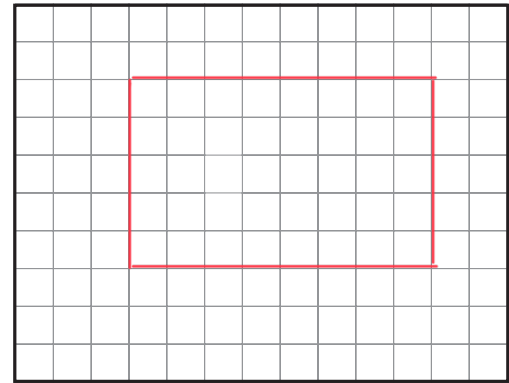
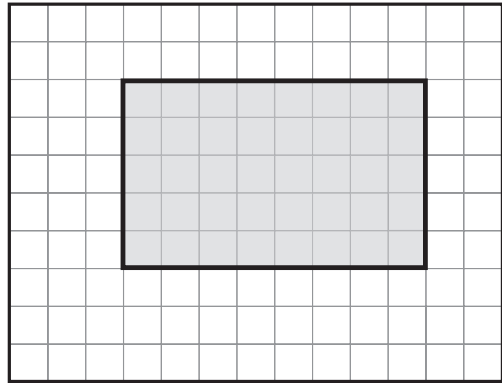


# 7 Rechtecke zeichnen

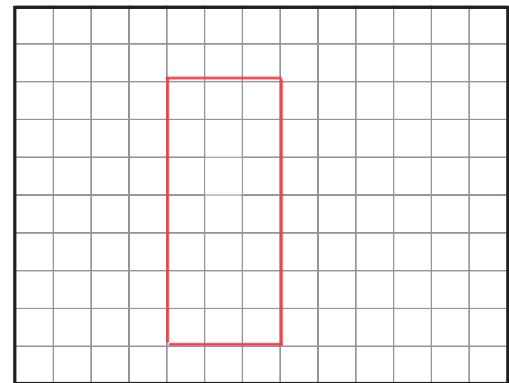
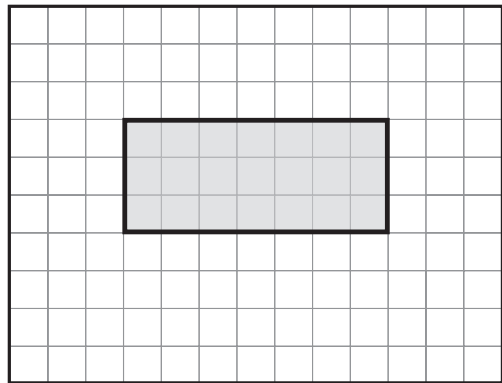
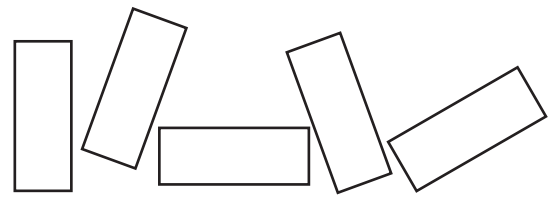


Achte auf die Anzahl der Kästchen.

1 Zeichne das Rechteck genau nach.



2 Zeichne ein gleich großes Rechteck in einer anderen Lage.



3 Zeichne 2 gleich große Rechtecke in unterschiedlicher Lage.

Maße:  $a = 4 \text{ cm}$   $b = 1 \text{ cm}$

