

8

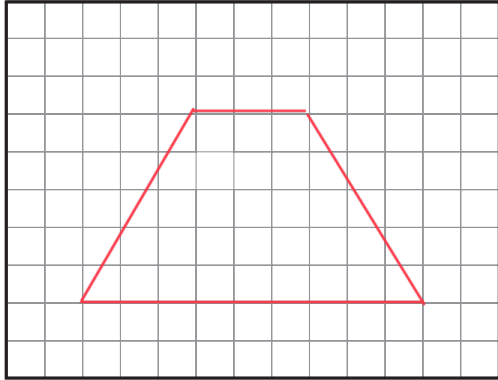
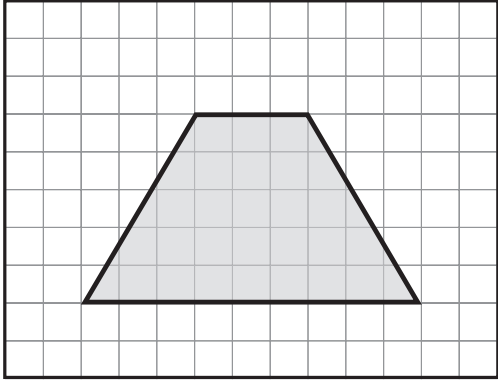
Vierecke zeichnen



Achte auf die Anzahl der Kästchen.



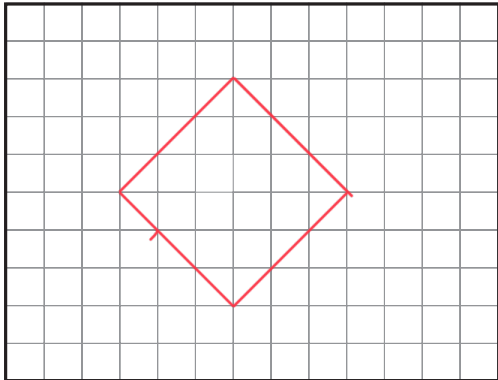
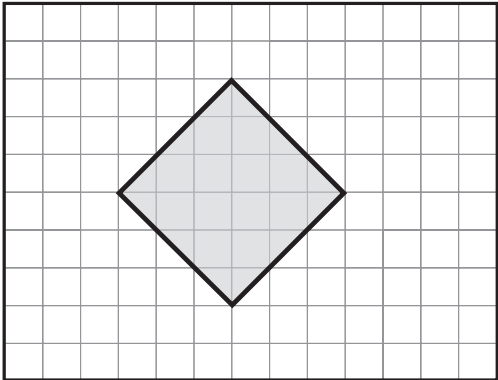
Das abgebildete Viereck nennt man Trapez. Zeichne es genau nach.



2

- a) Wie lang sind die Seiten des Quadrates? $a = \underline{\hspace{2cm}}$ cm
- b) Zeichne ein gleich großes Quadrat in einer anderen Lage.

Tip:
Diese Aufgabe ist einfacher auf Papier...



3

Zeichne mindestens 4 verschiedene Vierecke.

