



Schneide die Dreiecke unten aus und lege die Flächen aus.

Welche Flächen haben den gleichen Flächeninhalt?

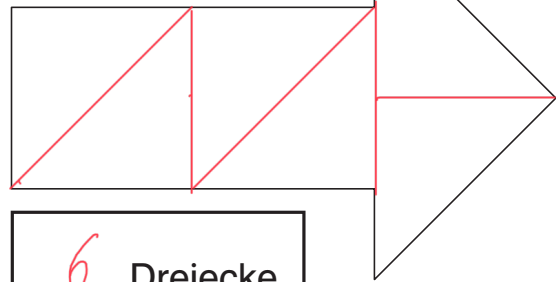
1, 3 und 4 haben 6 Dreiecke

2 und 5 haben 8 Dreiecke



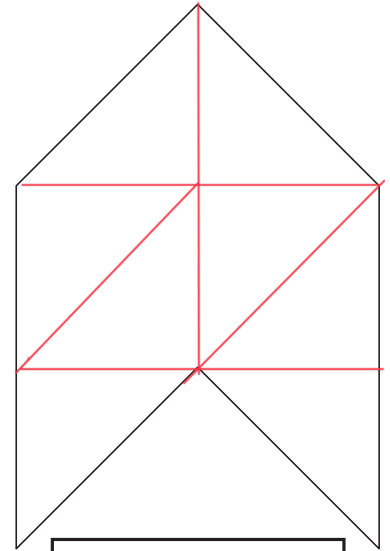
Tipp: Zähle die Dreiecke!

1



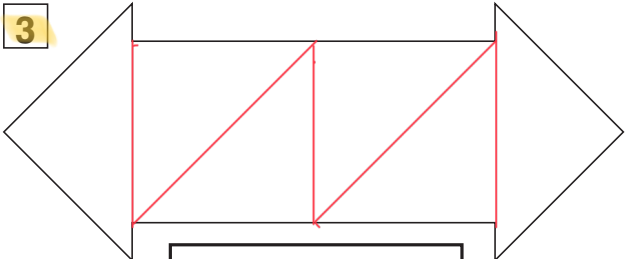
6 Dreiecke

2



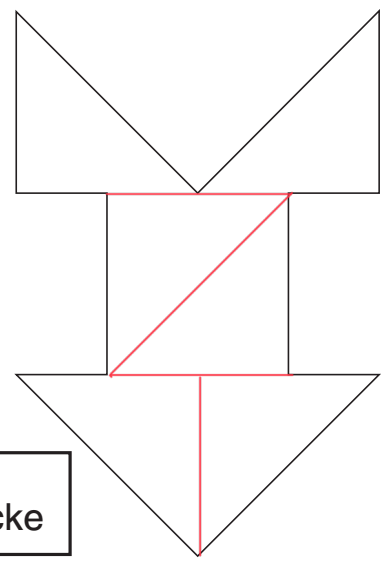
8 Dreiecke

3



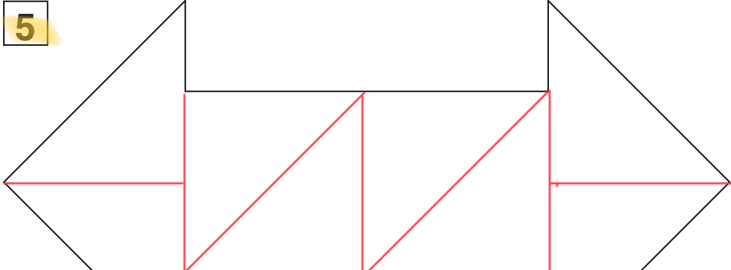
6 Dreiecke

4



6 Dreiecke

5



8 Dreiecke

