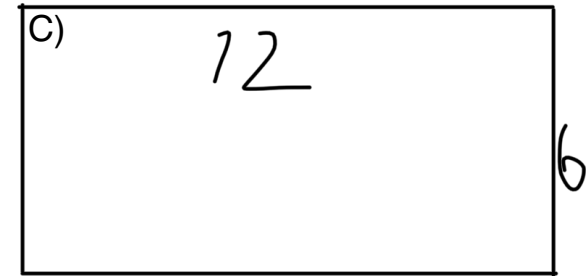
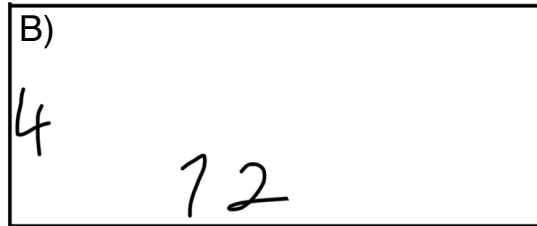
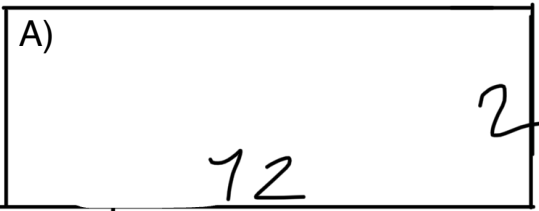




Aufgabe 1

Zeichne auf Kästchenpapier!

- a) Zeichne drei **unterschiedliche** rechteckige Figuren mit dem **Umfang** von 12 cm
- b) Berechne den Flächeninhalt jeder einzelnen Figur mit der Formel: Höhe • Breite
- c) Was fällt dir auf? Beschreibe deine Entdeckung.



$$\begin{array}{r} 12 \\ \times 6 \\ \hline 70 \end{array}$$

$$\begin{array}{r} 12 \\ \times 4 \\ \hline 48 \end{array}$$

$$\begin{array}{r} 12 \\ \times 2 \\ \hline 24 \end{array}$$