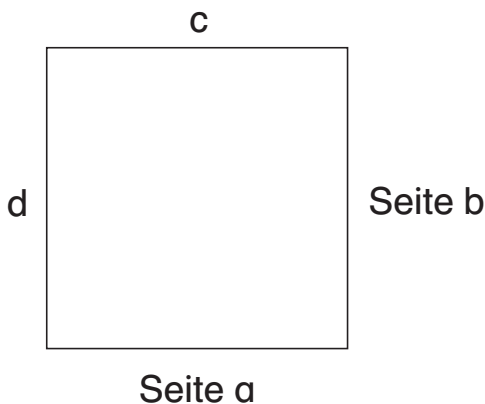




1 Betrachte das Quadrat!



a) Wie viele Seiten hat das Quadrat? 4 Seiten

b) Wie lang sind die einzelnen Seiten?


a = 4cm    b = 4cm    c = 4cm    d = 4cm

c) Was fällt dir bei den Seitenlängen auf?


Alle Seiten sind gleich la

2 Male die quadratischen Flächen an.


a)



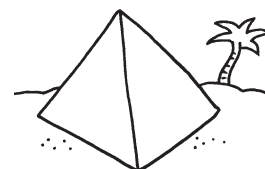
b)



c)



d)



3 Wie kannst du aus einem Rechteck ein Quadrat falten?

Tipp: Abschneiden ist erlaubt!

Wie oft musst du falten?

3 Mal

