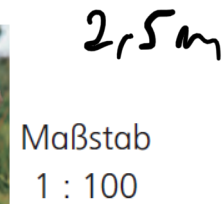







Aufgabe 1

Diese Tiere wurden verkleinert. Wie groß sind sie wirklich?

1 : 10
1 cm auf dem Bild
sind
10 cm in Wirklichkeit



Maßstab
1 : 100

Maßstab
1 : 45

Maßstab
1 : 50

Maßstab
1 : 10