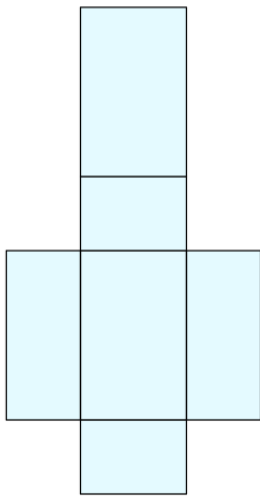
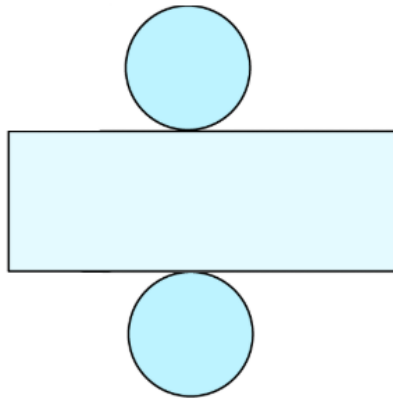


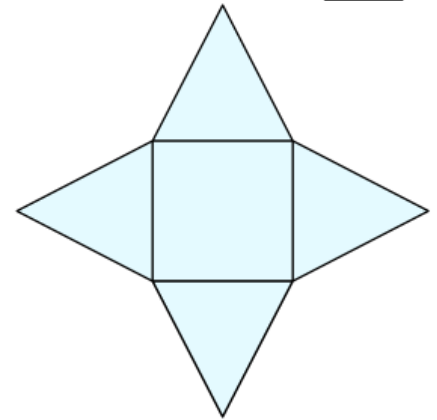
Aufgabe 1: Welcher Körper steckt hinter dem Körpernetz?



a) Viereck



b) Quadrat



c) Dreieck

Aufgabe 2: Felix hat versucht, ein paar Würfelnetze zu zeichnen. Überlege, ob man aus jedem seiner Würfelnetze einen Würfel bauen kann oder ob er irgendwo einen Fehler gemacht hat.

a)	b)	c)	d)	e)	f)	g)
<input checked="" type="checkbox"/>	<input checked="" type="checkbox"/>	<input checked="" type="checkbox"/>	<input checked="" type="checkbox"/>	<input checked="" type="checkbox"/>	<input checked="" type="checkbox"/>	<input checked="" type="checkbox"/>

Aufgabe 3: Zeichne ein Körpernetz eines Quaders! Achte darauf, dass alle Seiten gleich lang sind!