

Aufgabe 1: Welche der dargestellten Bilder sind symmetrisch? Begründe deine Entscheidung, falls eine Figur nicht symmetrisch ist.



Begründung: Ja



Begründung: Ja



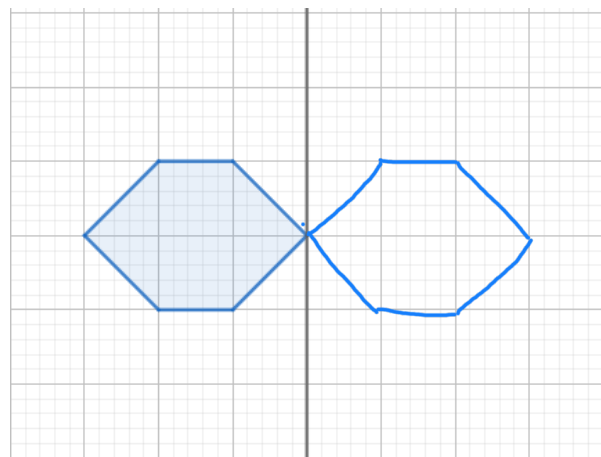
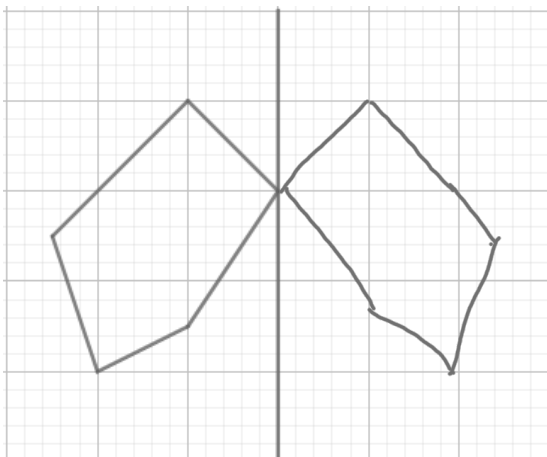
Begründung: Nein

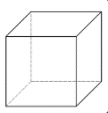


Begründung: Nein



Aufgabe 2: Spiegle die Figuren entlang der Spiegelachse





Aufgabe 3: Spiegele die Figuren entlang der Spiegelachse

