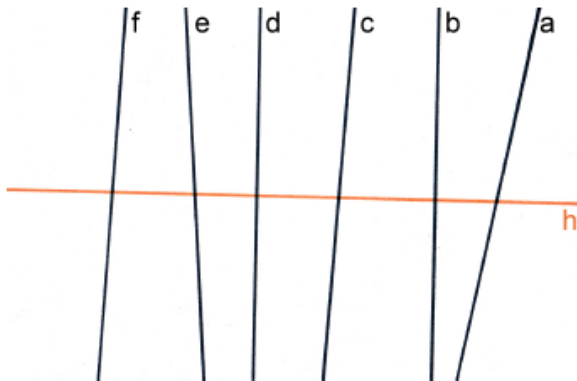


Aufgabe 1:

Finde alle Senkrechten zu h.




Senkrecht zu h sind:

Alle

Aufgabe 2:

Finde alle Parallelen zu g.



Parallel zu g sind:

a, d

Aufgabe 3:

Prüfe mit dem Geodreieck.

a) Welche Geraden sind senkrecht zueinander?

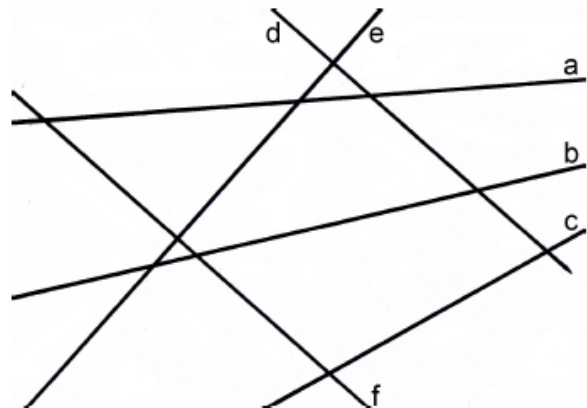
Schreibe I.

f, c, e

b) Welche Geraden sind parallel zueinander?

Schreibe II.

f, d



Aufgabe 4:

Zeichne drei Geraden (denke an die Beschriftung), die ...

a) ...keinen Schnittpunkt haben:

b) ...zwei Schnittpunkte haben:

c) ...drei Schnittpunkte haben: