

1 Wie viele Dreiecke entdeckst du?

Nicaragua



Bhutan



Seychellen



Israel



2 Welche Dreiecksformen entdeckst du? Unterscheide anhand der Seiten.

Kuba



Salomonen



Äquatorialguinea



Jamaika



3 Welche Dreiecksformen entdeckst du? Unterscheide anhand der Winkel.

Marshallinseln



Barbuda



Eritrea



Guyana

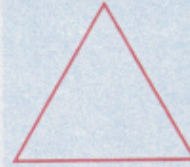


Dreiecksformen

Dreiecke werden eingeteilt nach

Seiten

gleichseitig



3 gleiche Seiten

gleichschenkelig



2 gleiche Seiten

unregelmäßig

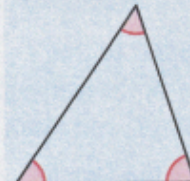


keine gleichen Seiten

und

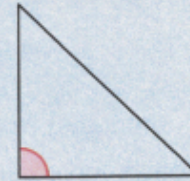
Winkeln

spitzwinklig



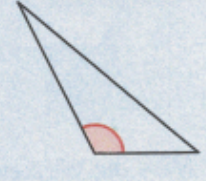
3 spitze Winkel

rechtswinklig



1 rechter Winkel

stumpfwinklig



1 stumpfer Winkel

4 Welche Dreiecksformen entdeckst du?

Kreuze an. Unterscheide nach Seiten und Winkeln.

Flaggen	Seiten			Winkeln		
	gleichseitig	gleichschenkelig	unregelmäßig	spitzwinklig	rechtwinklig	stumpfwinklig
Israel 	<input type="checkbox"/>	<input type="checkbox"/>	<input type="checkbox"/>	<input type="checkbox"/>	<input type="checkbox"/>	<input type="checkbox"/>
Seychellen 	<input type="checkbox"/>	<input type="checkbox"/>	<input type="checkbox"/>	<input type="checkbox"/>	<input type="checkbox"/>	<input type="checkbox"/>
São Tomé und Príncipe 	<input type="checkbox"/>	<input type="checkbox"/>	<input type="checkbox"/>	<input type="checkbox"/>	<input type="checkbox"/>	<input type="checkbox"/>
Vereinigtes Königreich 	<input type="checkbox"/>	<input type="checkbox"/>	<input type="checkbox"/>	<input type="checkbox"/>	<input type="checkbox"/>	<input type="checkbox"/>