


Drei Behälter

Aufgabe: Drei Flüssigkeitsbehälter werden befüllt. Die Zuflussmenge bleibt innerhalb der einzelnen Füllvorgänge jeweils konstant.



Behälter A

Behälter B

Behälter C

Die Diagramme zeigen, wie – abhängig von der Zeit – die Füllhöhe zunimmt.

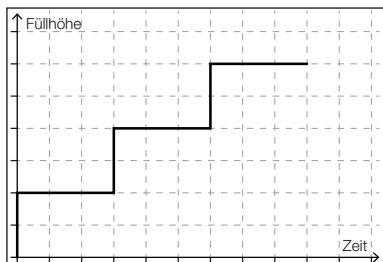


Diagramm 1

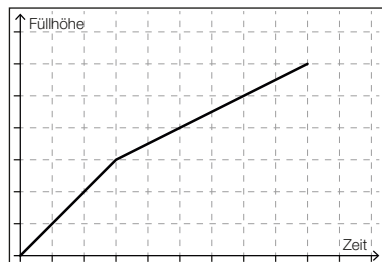


Diagramm 2

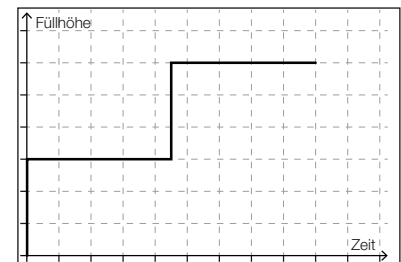


Diagramm 3

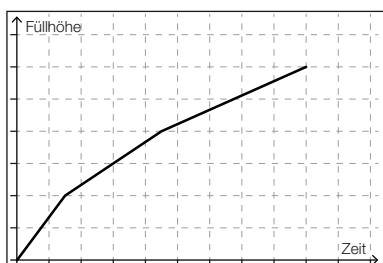


Diagramm 4

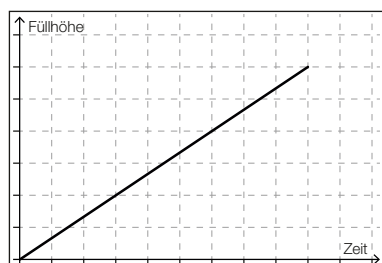


Diagramm 5

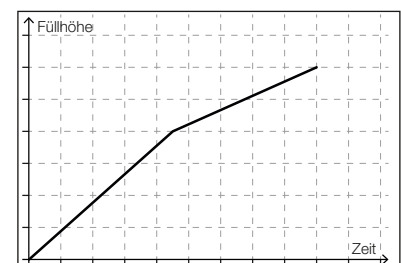


Diagramm 6

Setze die Nummern jener Diagramme ein, die zu den angeführten Behältern gehören.

Behälter A: ____

Behälter B: ____

Behälter C: ____